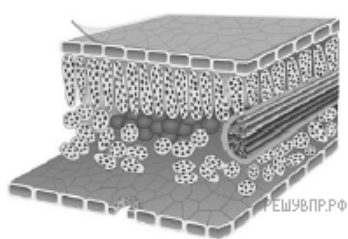


Яна и Никита выполняют проект, посвящённый растению Пшеница мягкая, по следующему плану: *внешнее и внутреннее строение, функции органов и тканей растения, особенности размножения.*

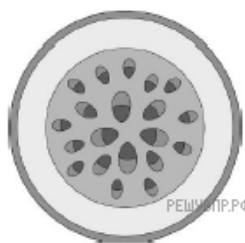


Яна и Никита для описания внутреннего строения Пшеницы мягкой приготовили препараты из разных частей растения и зарисовали их, но не успели подписать рисунки.

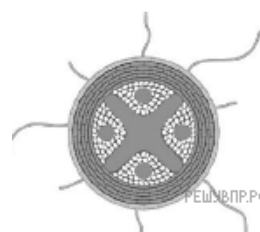
Подпишите названия органов растения на соответствующих рисунках.



А



Б



В

Объясните, по какому признаку Вы определили принадлежность образца под буквой Б.