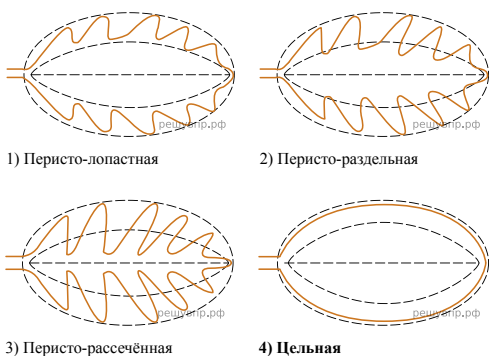



Рассмотрите изображение листа сирени и опишите его по следующему плану: форма листа, жилкование листа, тип листа по соотношению длины и ширины листовой пластинки (без черешка) и по расположению наиболее широкой части. Используйте при выполнении задания линейку и карандаш.



А. Форма листа

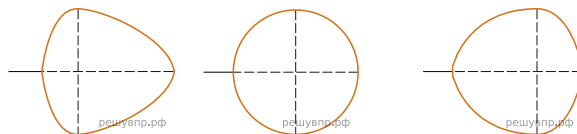


Б. Жилкование листа

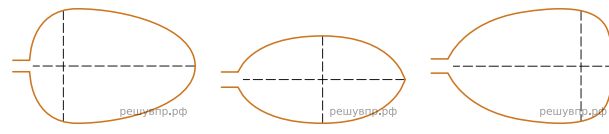


В. Тип листа

Длина равна ширине или немного её превышает.



Длина превышает ширину в 1.5-2 раза.



Впишите в таблицу номера выбранных ответов под соответствующими буквами.

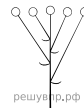
А	Б	В
<input type="text"/>	<input type="text"/>	<input type="text"/>

ИЛИ

Рассмотрите изображение побега чёрной смородины и опишите его по следующему плану: жизненная форма, тип соцветия, листорасположение.



1) Сложный щиток



2) Щиток



3) Сложный колос



4) Серёжка




5) Початок



6) Кисть

А. Жизненная форма



1) Дерево



2) Кустарник




3) Травянистое Растение




4) Кустарничек

Б. Тип соцветия


В. Листорасположение



1) Прикорневая розетка



2) Очерёдное



3) Супротивное



4) Мутовчатое

Ответ:

А	Б	В