




Рассмотрите изображение белой акации и опишите её по следующему плану:  
жизненная форма, тип соцветия, листорасположение.



**А. Жизненная форма**



1) Дерево



2) Кустарник



3) Травянистое Растение

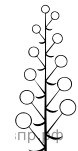


4) Кустарничек

**Б. Тип соцветия**



1) Корзинка



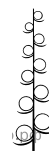
2) Кисть



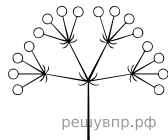
3) Метёлка



4) Серёжка




5) Колос




6) Сложный зонтик


**В. Листорасположение**




1) Прикорневая розетка



2) Очерёдное



3) Супротивное



4) Мутовчатое

Ответ:

А	Б	В
<input type="checkbox"/>	<input type="checkbox"/>	<input type="checkbox"/>