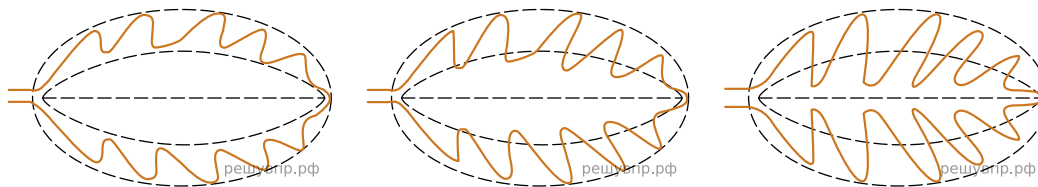


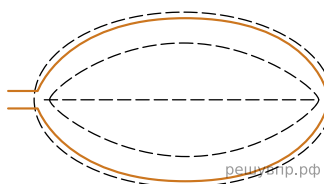
Рассмотрите изображение листа травянистого растения и опишите его по следующему плану: форма листа, жилкование листа, тип листа по соотношению длины и ширины листовидной пластинки (без черешка) и по расположению наиболее широкой части. Используйте при выполнении задания линейку и карандаш.



А. Форма листа




- 1) Перисто-лопастная 2) Перисто-раздельная 3) Перисто-рассечённая



- 4) Цельная

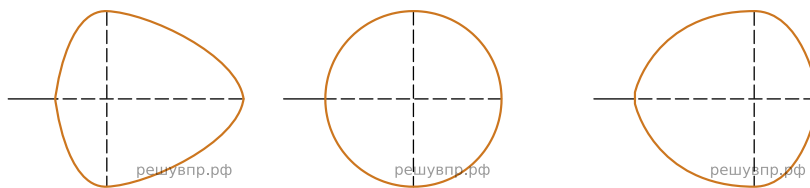
Б. Жилкование листа



- 1) Параллельное 2) Дуговидное 3) Пальчатое 4) Перисто-сетчатое

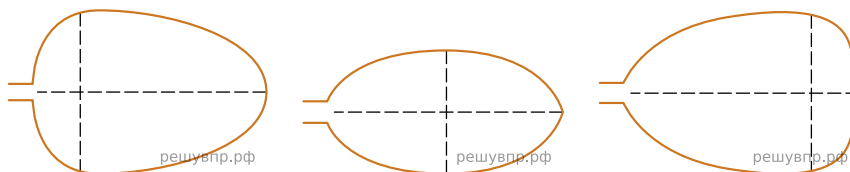
В. Тип листа

Длина равна ширине или немного её превышает.



- 1) Широкояйцевидный 2) Округлый 3) Обратно-широкояйцевидный

Длина превышает ширину в 1.5-2 раза.



- 4) Яйцевидный 5) Овальный 6) Обратно-яйцевидный

Запишите в ответ цифры, расположив их в порядке, соответствующем буквам:

А	Б	В
---	---	---

