
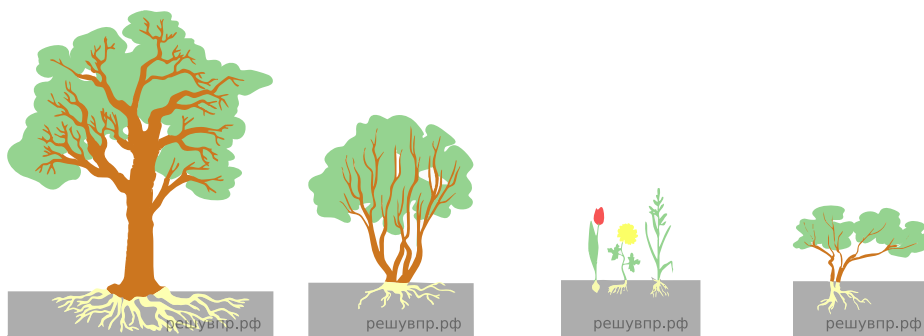


Рассмотрите изображение лещины и опишите его по следующему плану: жизненная форма, тип соцветия, листорасположение.




**А. Жизненная форма**



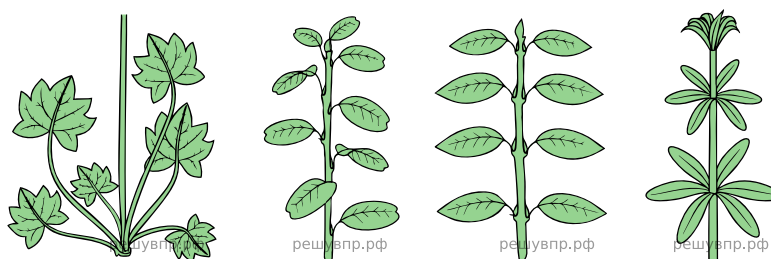
- 1) Дерево                      2) Кустарник                      3) Травянистое Растение                      4) Кустарничек

**Б. Тип соцветия**



- 1) Корзинка                      2) Кисть                      3) Метёлка                      4) Серёжка                      5) Колос                      6) Головка

**В. Листорасположение**



- 1) Прикорневая розетка                      2) Очерёдное                      3) Супротивное                      4) Мутовчатое

Ответ:

А	Б	В
<input type="text"/>	<input type="text"/>	<input type="text"/>