




Рассмотрите изображение лещины и опишите его по следующему плану:
жизненная форма, тип соцветия, листорасположение.




решувпр.рф

А. Жизненная форма



решувпр.рф

1) Дерево




решувпр.рф

2) Кустарник



решувпр.рф

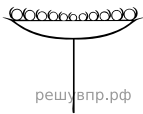
3) Травянистое Растение



решувпр.рф

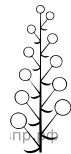
4) Кустарничек

Б. Тип соцветия



решувпр.рф

1) Корзинка



решувпр.рф

2) Кисть



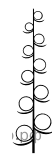
решувпр.рф

3) Метёлка



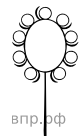
решувпр.рф

4) Серёжка



решувпр.рф


5) Колос




решувпр.рф

6) Головка


В. Листорасположение




1) Прикорневая розетка



2) Очерёдное



3) Супротивное



4) Мутовчатое

Ответ:

А	Б	В
<input type="checkbox"/>	<input type="checkbox"/>	<input type="checkbox"/>