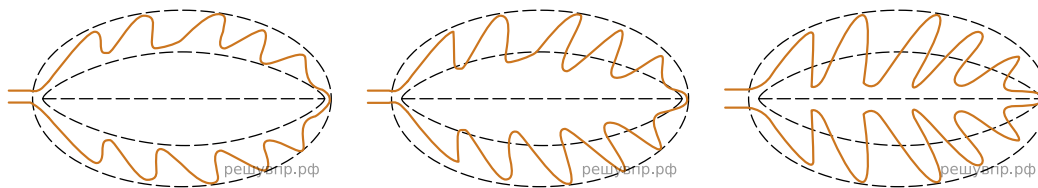


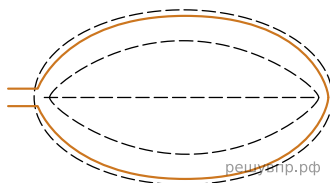
Рассмотрите изображение листа сливы и опишите его по следующему плану: форма листа, жилкование листа, тип листа по соотношению длины и ширины листовой пластинки (без черешка) и по расположению наиболее широкой части. Используйте при выполнении задания линейку и карандаш.



А. Форма листа




1) Перисто-лопастная 2) Перисто-раздельная 3) Перисто-рассечённая



4) Цельная

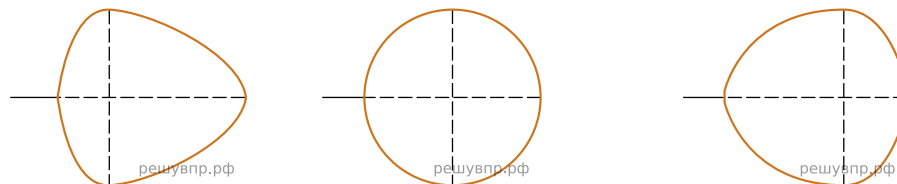
Б. Жилкование листа



1) Параллельное 2) Дуговидное 3) Пальчатое 4) Перисто-сетчатое

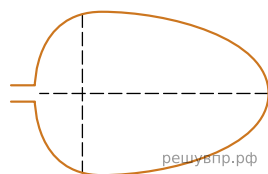
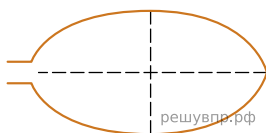
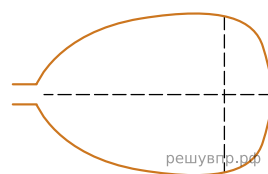
В. Тип листа

Длина равна ширине или немного её превышает.



1) Широкояйцевидный 2) Округлый 3) Обратно-широкояйцевидный

Длина превышает ширину в 1.5-2 раза.

**4) Яйцевидный****5) Овальный****6) Обратно-яйцевидный**

Запишите в ответ цифры, расположив их в порядке, соответствующем буквам:

А	Б	В
<input type="text"/>	<input type="text"/>	<input type="text"/>