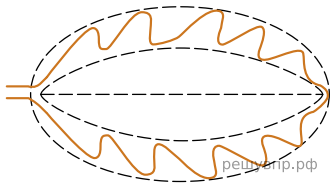


Рассмотрите изображение листа хмеля и опишите его по следующему плану:  
 форма листа, жилкование листа, тип  
 листа по соотношению длины и ширины листовой пластинки (без черешка) и по  
 расположению наиболее широкой части. Используйте при выполнении задания  
 линейку и карандаш.

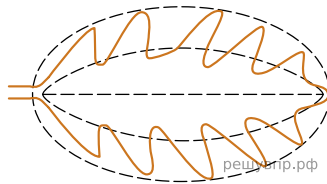


РЕШУ ВПР.РФ

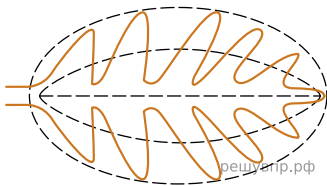
**А. Форма листа**



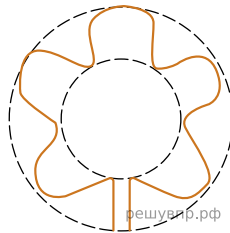
1) Перисто-лопастная



2) Перисто-раздельная




3) Перисто-рассечённая




4) Пальчато-лопастный


**Б. Жилкование листа**



1) Параллельное



2) Дуговидное



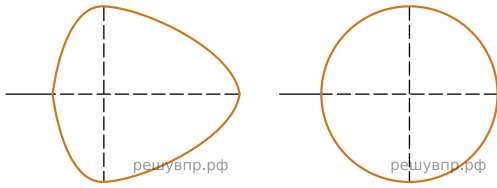
3) Пальчатое



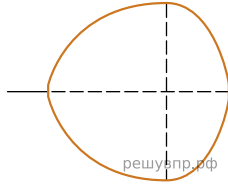
4) Перисто-сетчатое

**В. Тип листа**

Длина равна ширине или немного её превышает.

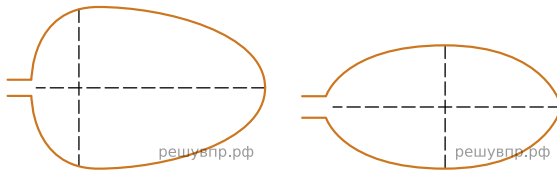


- 1) Широкояйцевидный    2) Округлый

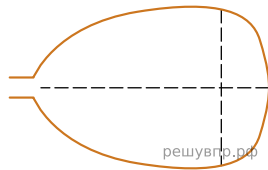


- 3) Обратно-широкояйцевидный

Длина превышает ширину в 1.5-2 раза.



- 4) Яйцевидный    5) Овальный



- 6) Обратно-яйцевидный

Запишите в ответ цифры, расположив их в порядке, соответствующем буквам:

А	Б	В
<input type="text"/>	<input type="text"/>	<input type="text"/>