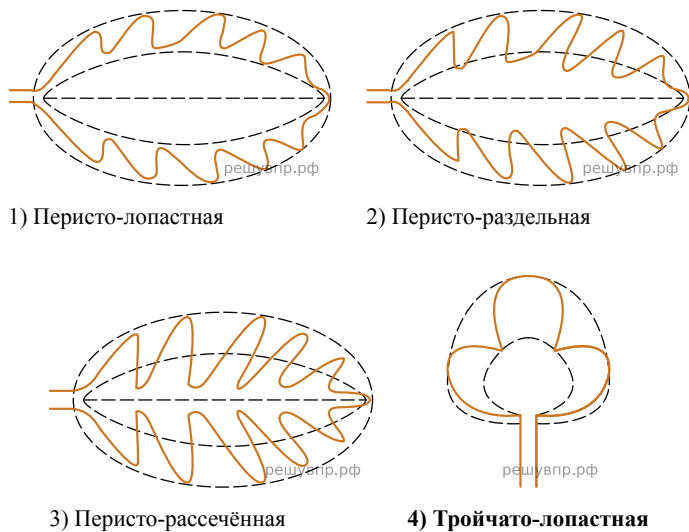



Рассмотрите фотографию листа винограда. Выберите характеристики, соответствующие его строению, по следующему плану: форма листа; тип листа; тип жилкования листа. При выполнении работы используйте линейку и карандаш.



**А. Форма листа**



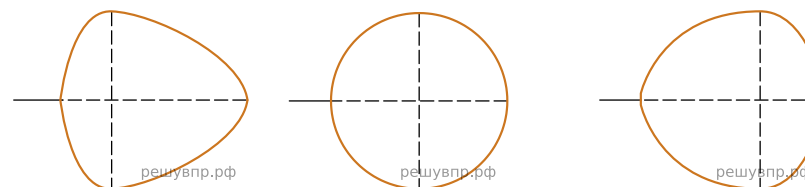
**Б. Жилкование листа**



- 1) Параллельное 2) Дуговидное 3) Пальчатое 4) Перисто-сетчатое

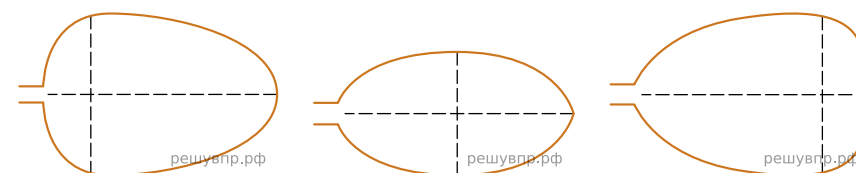
**В. Тип листа**

Длина равна ширине или немного её превышает.



- 1) Широкояйцевидный 2) Округлый 3) Обратно-широкояйцевидный

Длина превышает ширину в 1.5-2 раза.



- 4) Яйцевидный 5) Овальный 6) Обратно-яйцевидный

Ответ:

|   |   |   |
|---|---|---|
| А | Б | В |
|   |   |   |