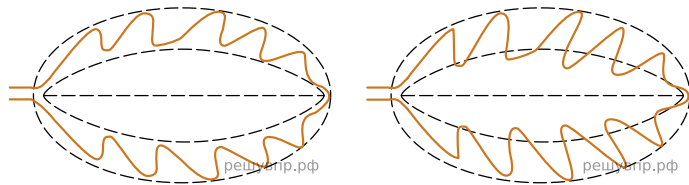


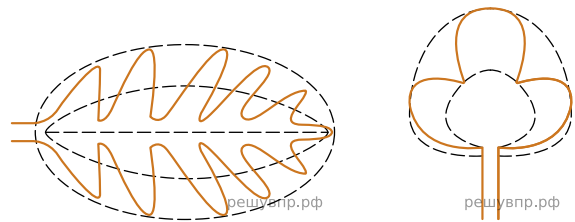
Рассмотрите изображение листа калины и опишите его по следующему плану: форма листа, жилкование листа, тип листа по соотношению длины и ширины листовой пластинки (без черешка) и по расположению наиболее широкой части. Используйте при выполнении задания линейку и карандаш.



**А. Форма листа**




- 1) Перисто-лопастная      2) Перисто-раздельная



- 3) Перисто-рассечённая      4) Тройчато-лопастная

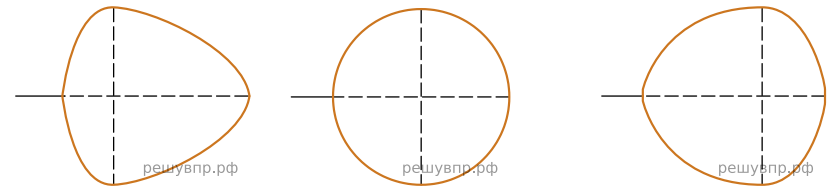
**Б. Жилкование листа**



- 1) Параллельное    2) Дуговидное    3) Пальчатое      4) Перисто-сетчатое

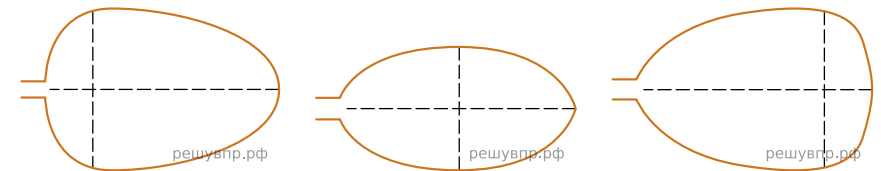
**В. Тип листа**

Длина равна ширине или немного её превышает.



- 1) Широкояйцевидный    2) Округлый      3) Обратнo-широкояйцевидный

Длина превышает ширину в 1.5-2 раза.



- 4) Яйцевидный      5) Овальный      6) Обратнo-яйцевидный

Ответ:

А	Б	В