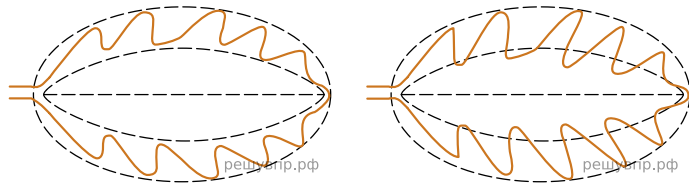


Рассмотрите изображение листа калины и опишите его по следующему плану: форма листа, жилкование листа, тип листа по соотношению длины и ширины листовой пластинки (без черешка) и по расположению наиболее широкой части. Используйте при выполнении задания линейку и карандаш.




А. Форма листа




1) Перисто-лопастная

2) Перисто-раздельная




3) Перисто-рассечённая



4) Тройчато-лопастная

Б. Жилкование листа



1) Параллельное

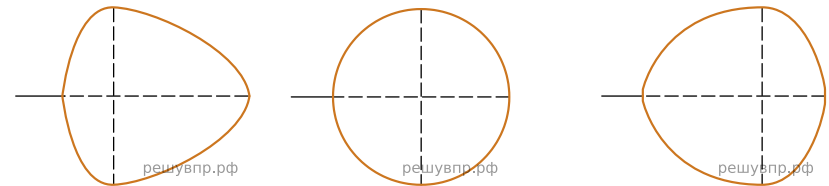
2) Дуговидное

3) Пальчатое

4) Перисто-сетчатое

В. Тип листа

Длина равна ширине или немного её превышает.

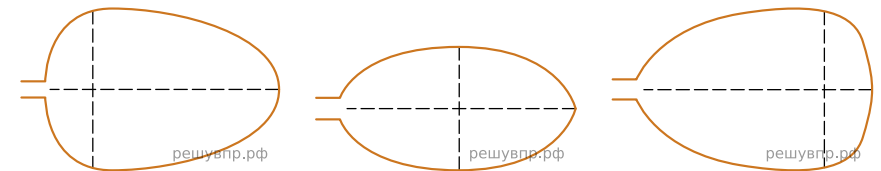


1) Широкояйцевидный

2) Округлый

3) Обратнo-широкояйцевидный

Длина превышает ширину в 1.5-2 раза.



4) Яйцевидный

5) Овальный

6) Обратнo-яйцевидный

Ответ:

А	Б	В