
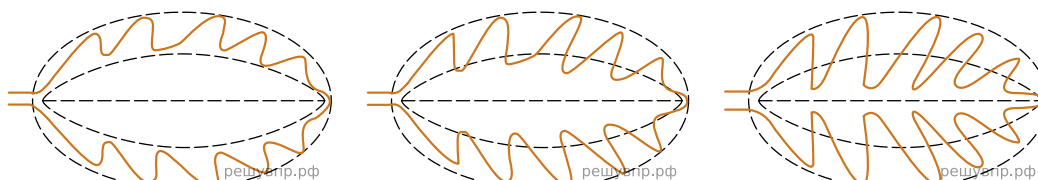


Рассмотрите изображение листа диффенбахии и опишите его по следующему плану: форма листа, жилкование листа, тип листа по соотношению длины и ширины листовой пластинки (без черешка) и по расположению наиболее широкой части. Используйте при выполнении задания линейку и карандаш.



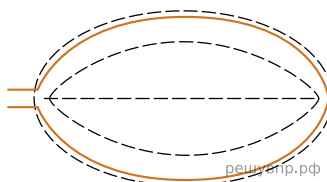
**А. Форма листа**



1) Перисто-лопастная


2) Перисто-раздельная

3) Перисто-рассечённая



4) Цельная

**Б. Жилкование листа**



1) Параллельное

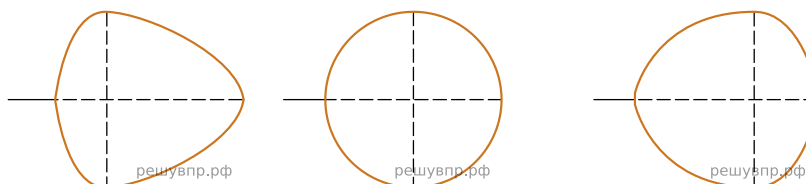
2) Дуговидное

3) Пальчатое

4) Перисто-сетчатое

**В. Тип листа**

Длина равна ширине или немного её превышает.

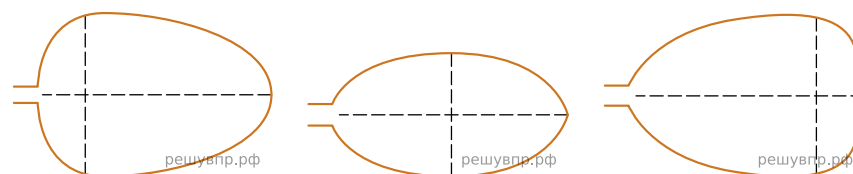


1) Широкояйцевидный

2) Округлый

3) Обратнo-широкояйцевидный

Длина превышает ширину в 1.5-2 раза.



4) Яйцевидный

5) Овальный

6) Обратнo-яйцевидный

Запишите в ответ цифры, расположив их в порядке, соответствующем буквам:

А	Б	В
<input type="text"/>	<input type="text"/>	<input type="text"/>