


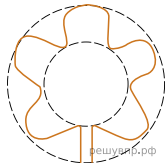
Рассмотрите фотографию листа герани опишите его по следующему плану: форма листа, жилкование листа, тип листа по соотношению длины и ширины листовой пластинки (без черешка) и по расположению наиболее широкой части. Используйте при выполнении задания линейку и карандаш.



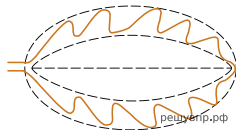
**А. Форма листа**




1) Тройчато-лопастный



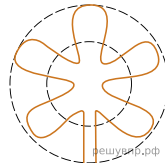
2) Пальчато-лопастный




3) Перисто-лопастный



4) Тройчато-раздельный




5) Пальчато-раздельный



6) Перисто-раздельный

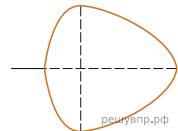
**Б. Жилкование листа**



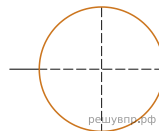
1) Параллельное 2) Дуговидное 3) Пальчатое 4) Перисто-сетчатое

**В. Тип листа**

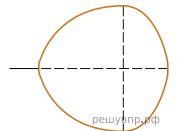
Длина равна ширине или немного её превышает.



1) Широкояйцевидный

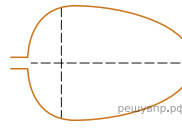


2) Округлый

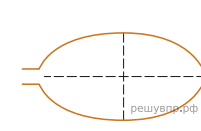


3) Обратнo-широкояйцевидный

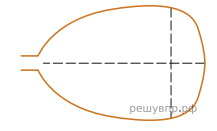
Длина превышает ширину в 1.5-2 раза.



4) Яйцевидный



5) Овальный



6) Обратнo-яйцевидный

Ответ:

А	Б	В