
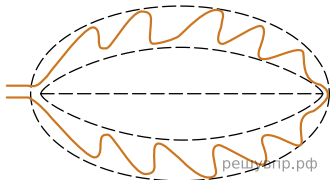


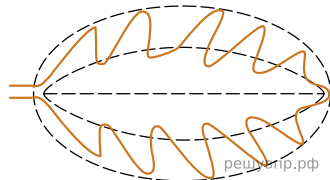
Рассмотрите изображение листа груши растения и опишите его по следующему плану: жизненная форма, тип соцветия, листорасположение.



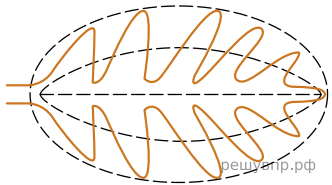
А. Форма листа



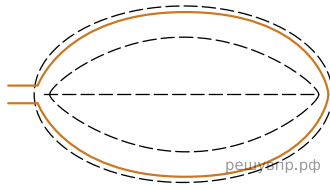
1) Перисто-лопастная



2) Перисто-раздельная




3) Перисто-рассечённая

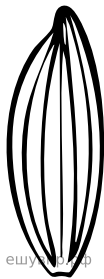


4) Целая


Б. Жилкование листа



1) Параллельное



2) Дуговидное



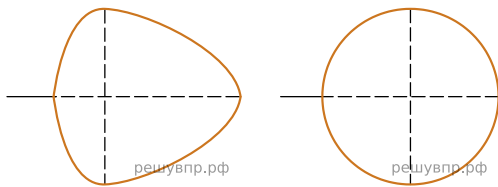
3) Пальчатое



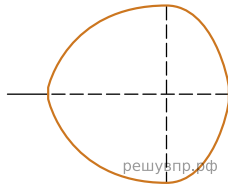
4) Перисто-сетчатое

В. Тип листа

Длина равна ширине или немного её превышает.

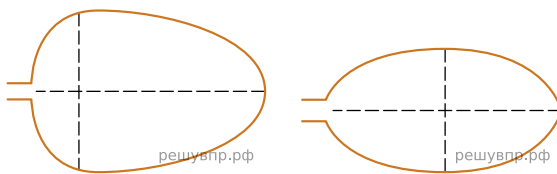


1) Широкояйцевидный 2) Округлый

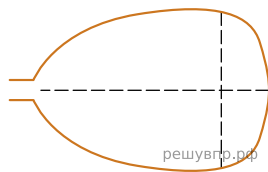


3) Обратно-широкояйцевидный

Длина превышает ширину в 1.5-2 раза.



4) Яйцевидный 5) Овальный



6) Обратно-яйцевидный

Запишите в ответ цифры, расположив их в порядке, соответствующем буквам:

А	Б	В
<input type="text"/>	<input type="text"/>	<input type="text"/>