


Рассмотрите изображение листа аспидистры и опишите его по следующему плану: жизненная форма, тип соцветия, листорасположение.



РЕШУВПР.РФ

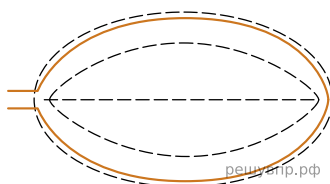
А. Форма листа



1) Перисто-лопастная


2) Перисто-раздельная

3) Перисто-рассечённая



4) Цельная

Б. Жилкование листа



1) Параллельное

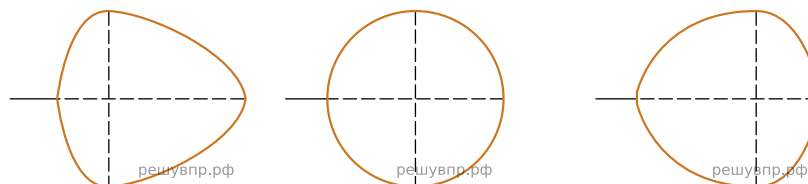
2) Дуговидное

3) Пальчатое

4) Перисто-сетчатое

В. Тип листа

Длина равна ширине или немного её превышает.

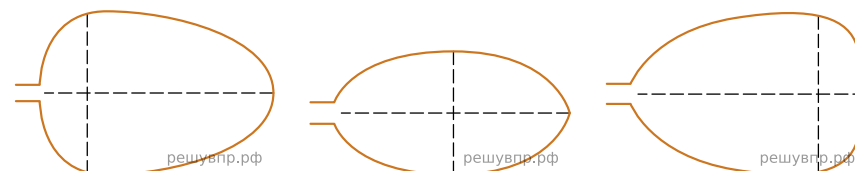


1) Широкояйцевидный

2) Округлый

3) Обратно-широкояйцевидный

Длина превышает ширину в 1.5-2 раза.



4) Яйцевидный

5) Овальный

6) Обратно-яйцевидный

Запишите в ответ цифры, расположив их в порядке, соответствующем буквам:

А	Б	В
<input type="text"/>	<input type="text"/>	<input type="text"/>