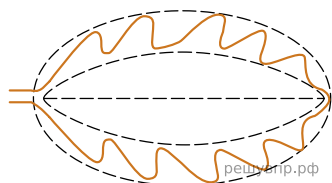


Рассмотрите изображение листа аспидистры и опишите его по следующему плану: жизненная форма, тип соцветия, листорасположение.




РЕШУВПР.РФ

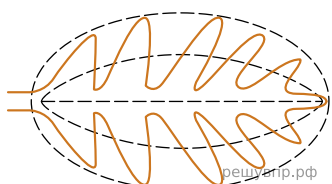
**А. Форма листа**



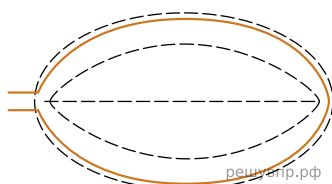
1) Перисто-лопастная



2) Перисто-раздельная




3) Перисто-рассечённая




4) Цельная


**Б. Жилкование листа**



1) Параллельное



2) Дуговидное



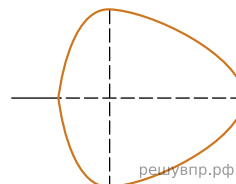
3) Пальчатое



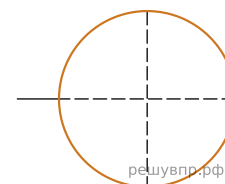
4) Перисто-сетчатое

**В. Тип листа**

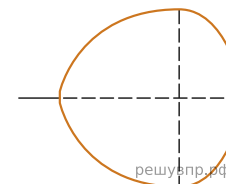
Длина равна ширине или немного её превышает.



1) Широкояйцевидный

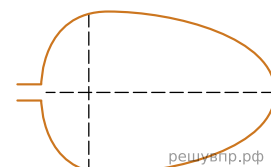


2) Округлый

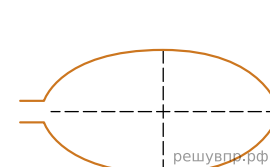


3) Обратнo-широкояйцевидный

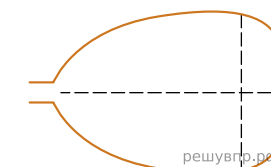
Длина превышает ширину в 1.5-2 раза.



4) Яйцевидный



5) Овальный



6) Обратнo-яйцевидный

Запишите в ответ цифры, расположив их в порядке, соответствующем буквам:

А	Б	В
<input type="text"/>	<input type="text"/>	<input type="text"/>