



Рассмотрите изображение нивяника обыкновенного и опишите его по следующему плану: жизненная форма, тип соцветия, листорасположение.



А. Жизненная форма



1) Дерево



2) Кустарник

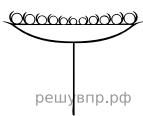


3) Травянистое Растение

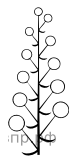


4) Кустарничек

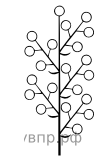
Б. Тип соцветия



1) Корзинка



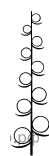
2) Кисть



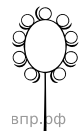
3) Метёлка



4) Серёжка




5) Колос




6) Головка


В. Листорасположение




1) Прикорневая розетка



2) Очерёдное



3) Супротивное



4) Мутовчатое

Ответ:

А	Б	В
<input type="checkbox"/>	<input type="checkbox"/>	<input type="checkbox"/>