



Рассмотрите изображение подсолнечника и опишите его по следующему плану: жизненная форма, тип соцветия, листорасположение.



**А. Жизненная форма**



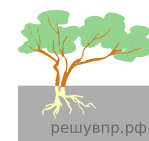
1) Дерево



2) Кустарник



3) Травянистое Растение



4) Кустарничек

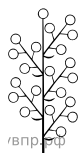
**Б. Тип соцветия**



1) Корзинка



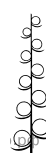
2) Кисть



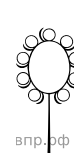
3) Метёлка



4) Серёжка




5) Колос




6) Головка


**В. Листорасположение**




1) Прикорневая розетка



2) Очерёдное



3) Супротивное



4) Мутовчатое

Ответ:

А	Б	В
<input type="text"/>	<input type="text"/>	<input type="text"/>