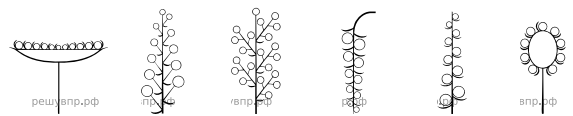
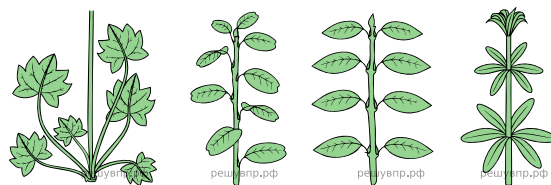


Рассмотрите изображение подсолнечника и опишите его по следующему плану: жизненная форма, тип соцветия, листорасположение.



1) Корзинка 2) Кисть 3) Метёлка 4) Серёжка 5) Колос 6) Головка

В. Листорасположение

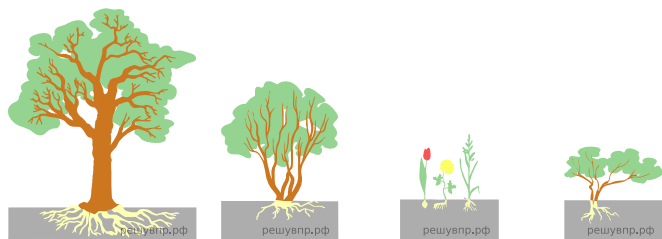


1) Прикорневая розетка 2) Очерёдное 3) Супротивное 4) Мутовчатое

Ответ:

А	Б	В

А. Жизненная форма



1) Дерево 2) Кустарник 3) Травянистое Растение 4) Кустарничек

Б. Тип соцветия