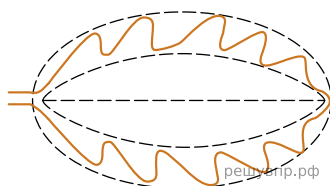


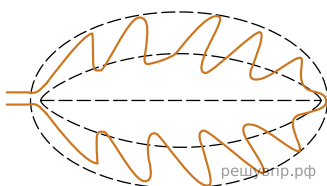
Рассмотрите изображение листа сирени и опишите его по следующему плану: форма листа, жилкование листа, тип листа по соотношению длины и ширины листовой пластинки (без черешка) и по расположению наиболее широкой части. Используйте при выполнении задания линейку и карандаш.



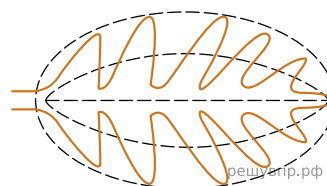
**А. Форма листа**



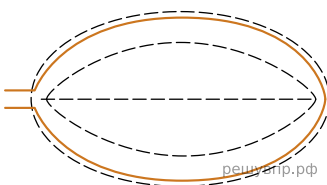
1) Перисто-лопастная



2) Перисто-раздельная




3) Перисто-рассечённая




4) Цельная


**Б. Жилкование листа**



1) Параллельное



2) Дуговидное



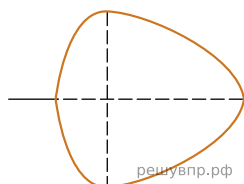
3) Пальчатое



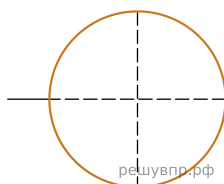
4) Перисто-сетчатое

**В. Тип листа**

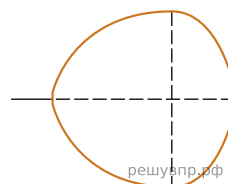
Длина равна ширине или немного её превышает.



1) Широкояйцевидный

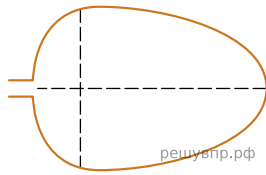
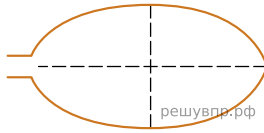
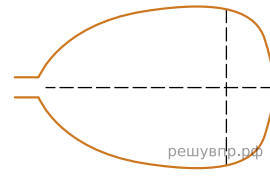


2) Округлый



3) Обратнo-широкояйцевидный

Длина превышает ширину в 1.5-2 раза.

**4) Яйцевидный****5) Овальный****6) Обратнo-яйцевидный**

**Впишите в таблицу номера выбранных ответов под соответствующими буквами.**

А	Б	В
<input type="text"/>	<input type="text"/>	<input type="text"/>